

ARBEITSBLATT ZUR FIGUR-ANALYSE

Aufgabe 1: Beschreibe das linke Bild (**Bild 1**) in Stichworten. Was fällt Dir in bezug auf die einzelnen Häuser auf?

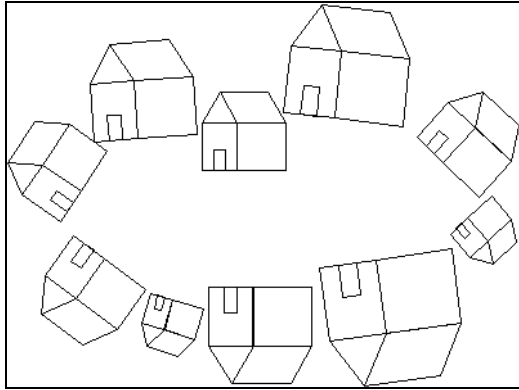


Bild 1




Bild 2

Aufgabe 2: Beschreibe jetzt das rechte Bild (**Bild 2**) in Stichworten. Welche Unterschiede zum ersten Bild fallen Dir besonders auf?

Aufgabe 3: Markiere im unteren Bild (**Bild 3**) die Figuren auf der rechten Seite, die zu einer der Figuren auf der linken Seite ähnlich sind und beschreibe die Ähnlichkeitsabbildung, mit der die linke Figur in die rechte überführt werden könnte. Erläutere bei den nicht markierten Figuren, wieso sie nicht zu einer Figur auf der linken Seite ähnlich sein können.

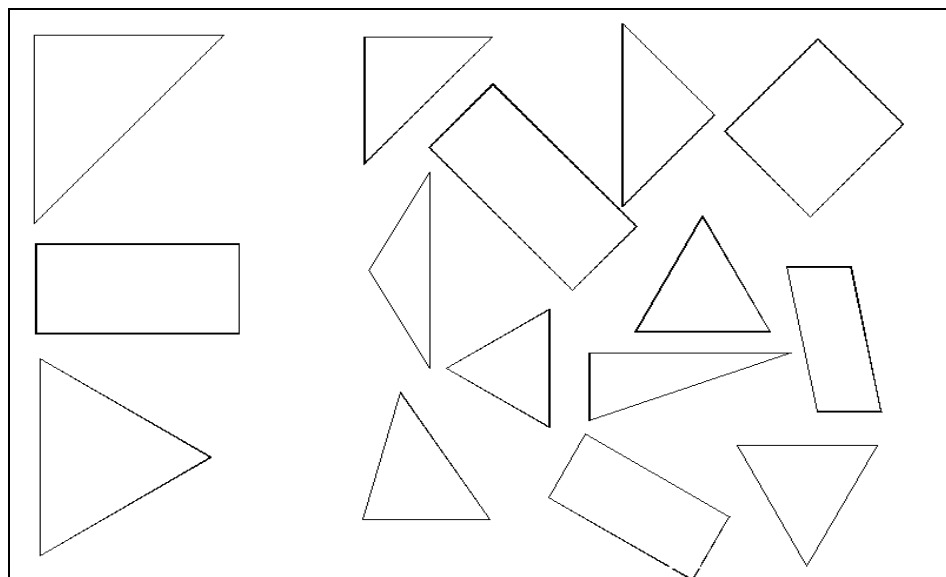


Bild 3

Hausaufgabe: